



WIELOKĄTY klasa 4

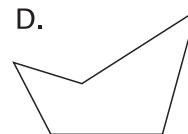
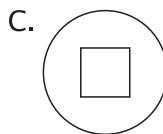
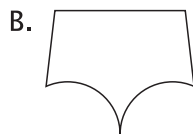

.....
imię i nazwisko

.....
lp. w dzienniku

.....
klasa

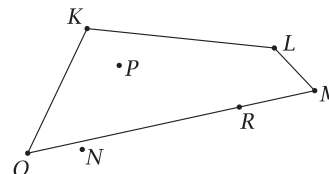
.....
data

1. Wielokątem jest figura:




2. Który z zaznaczonych punktów nie należy do czworokąta *KLMO*?

- A. *R* B. *O* C. *N* D. *P*

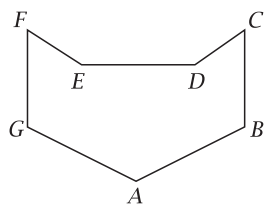


3. Uzupełnij zdanie.

Wielokąt przedstawiony na rysunku obok ma wierzchołków,
..... kątów i boków.



4. Wypisz wszystkie wierzchołki i boki narysowanego wielokąta, oraz uzupełnij zdanie.

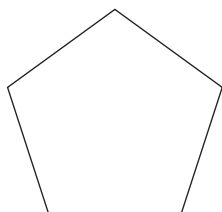


Wierzchołki:

Boki:

Narysowany wielokąt to

5. Na podstawie rysunku wielokąta oceń prawdziwość zdań. Wstaw znak **X** w odpowiednią kratkę.



Wszystkie kąty wielokąta są ostre.

prawda fałsz

Wielokąt ma pięć wierzchołków.

prawda fałsz

Wszystkie boki mają taką samą długość.

prawda fałsz