



# Kąty

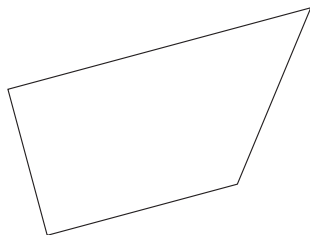
.....  
imię i nazwisko

.....  
lp. w dzienniku

.....  
klasa

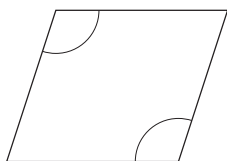
.....  
data

1. Zaznacz w czworokącie tylko kąt rozwarty.

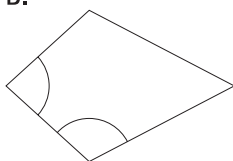


2. W figurach narysowanych poniżej zaznaczono po dwa różne kąty. Na którym rysunku oba zaznaczone kąty są rozwarte?

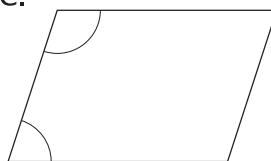
A.



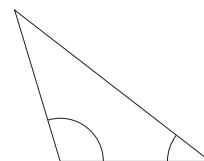
B.



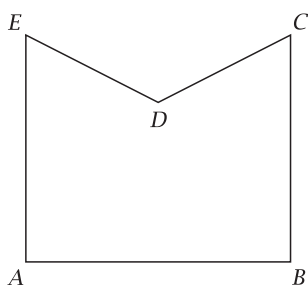
C.



D.



3. Punkty  $A$ ,  $B$ ,  $C$ ,  $D$  i  $E$  są wierzchołkami kątów narysowanej figury.



Wypisz wierzchołki kątów:

a) ostrych: .....

b) prostych: .....

4. Dwa kąty ostre o mierze  $45^\circ$ , które mają wspólny wierzchołek i jedno wspólne ramię, tworzą kąt:

A. ostry      B. rozwarty      C. prosty      D. wklęsły